

Vorname.....




Datum .....



MIT GELD UMGEHEN 2.

Du gehst einkaufen. Male für jedes Objekt die Scheine und Münzen, die du brauchst.

Male nur 10er-Scheine und 1er-Münzen.



Zahle die selbe Summe mit anderen Scheinen und Münzen.

